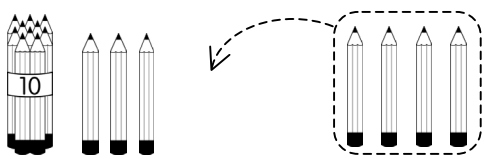


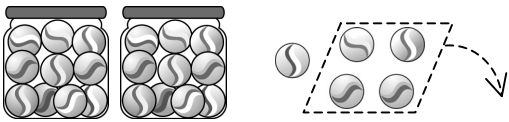


### 一、看圖填填看。

(每格2分,共12分)

1. 

( ) + ( ) = ( )

2. 

( ) - ( ) = ( )

### 二、畫(10)和(1)算算看。

(每題8分,共48分)

1.  $15 + 24 = ( )$

2.  $20 - 10 = ( )$

3.  $54 + 8 = ( )$

4.  $63 - 3 = ( )$



5.  $47 - 31 = ( )$

6.  $72 + 5 = ( )$

### 三、看圖寫出答案算算看。



(每題10分,共20分)



1. 買一個和一個要多多少元?

算式:

要( )元

2. 一個比一個多多少元?

算式:

多( )元

### 四、寫出算式做做看。

(每題10分,共20分)

1. 爸爸釣了21條魚,媽媽拿走6條,還剩下幾條魚?

算式:

還剩下( )條魚

2. 操場上原有4個人,又來了28個人,現在操場上共有幾個人?

算式:

一共有( )個人