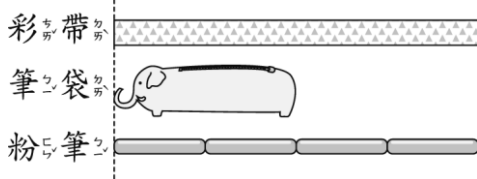


一、對的畫○，錯的打×（是非題）

1. () 家銘的鉛筆盒長度大約有 13 個迴紋針長，里慧的鉛筆盒大約有 6 個橡皮擦長，所以家銘的鉛筆盒比里慧的鉛筆長。

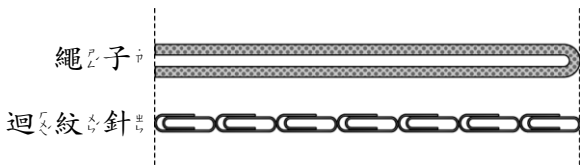
二、選出正確的答案（選擇題）

1. () 彩帶和幾個筆袋一樣長？



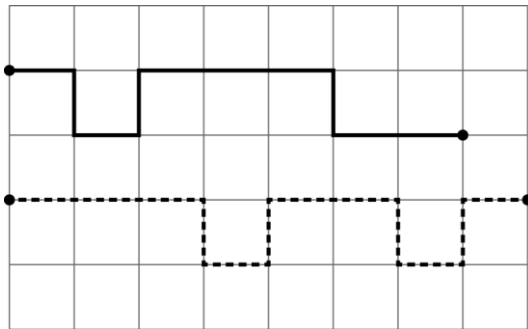
- ① 4 個 ② 2 個 ③ 5 個。

2. () 繩子拉開後和幾個迴紋針一樣長？



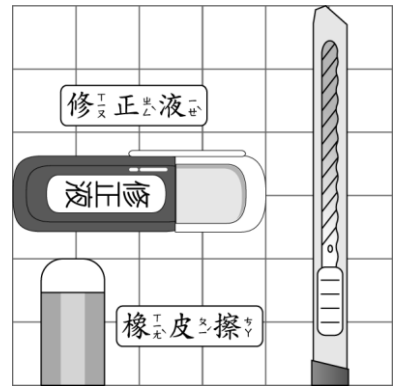
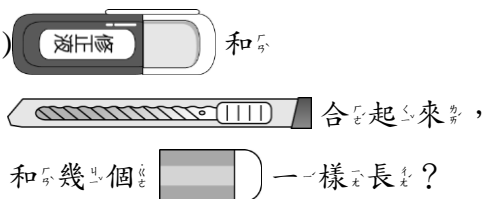
- ① 7 個 ② 10 個 ③ 14 個。

3. () 虛線的長度比實線的長度多幾格？



- ① 1 格 ② 2 格 ③ 3 格。


4. () 修正液和橡皮擦合起來，和幾個橡皮擦一樣長？



- ① 3 個 ② 5 個 ③ 7 個。

三、填填看

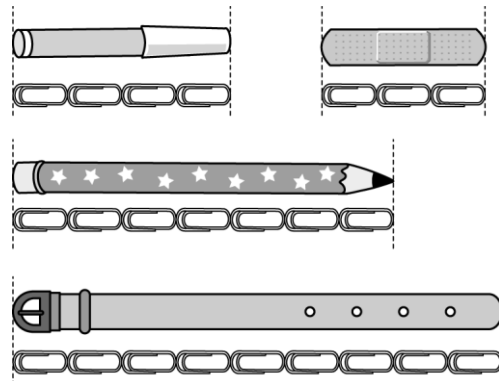
1. 1 輛巴士和 2 輛汽車一樣長，2 輛汽車和 3 臺腳踏車一樣長。



- (1) 6 輛汽車和 () 輛巴士一樣長。
 (2) 6 輛汽車和 () 臺腳踏車一樣長。

四、勾選題

1. 正確的打√。



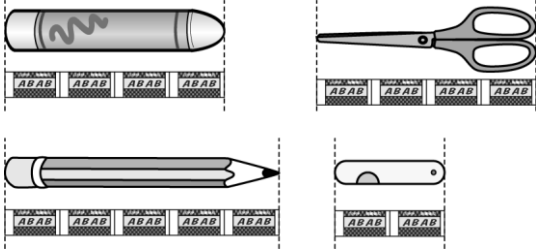
- (1) 一枝修正液和 4 個橡皮擦一樣長。
 (2) 一枝鉛筆和 2 個橡皮擦一樣長。

(3) 一枝蠟筆和 一枝

一樣長。

(4) 最長。

2. 正確的打 。



(1) 一枝蠟筆和 5 塊橡皮一樣長。

(2) 一枝蠟筆和 一把

剪刀一樣長。

(3) 一把剪刀和 2 把

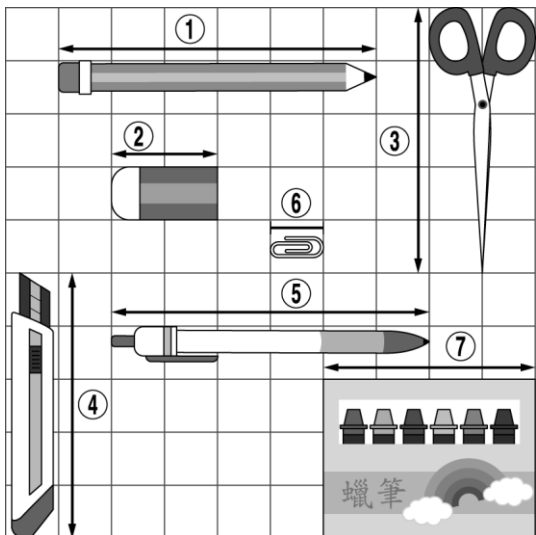
一樣長。

(4) 最短。

五、看圖做做看

1. 每個 都一樣大。

(1) 寫出每個物品和幾個 一樣長。



① 鉛筆：() 個

② 橡皮擦：() 個

③ 剪刀：() 個

④ 美工刀：() 個

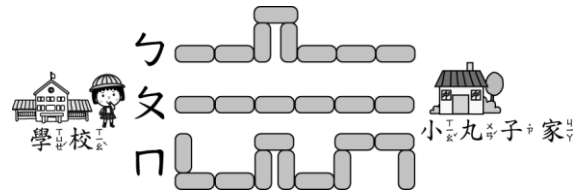
⑤ 原子筆：() 個

⑥ 迴紋針：() 個

⑦ 蠟筆盒：() 個

(2) (蠟筆盒, 剪刀) 比較長。

2. 「噹! 噹! 噹!」放學的鐘聲響起了, 小朋友們興高采烈到走廊排隊, 準備回家。小丸子今天自己要走回家, 她記得有 3 條路可以回家。



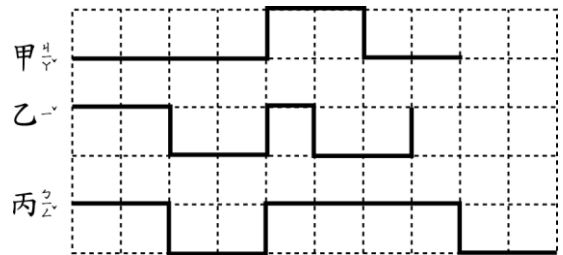
(1) 哪一條回家的路線最長? (1, 2, 3)

(2) 哪一條回家的路線最短? (1, 2, 3)

(3) 小丸子想早點回家看卡通, 要選哪一條路線, 才可以最快回家? ()

六、看圖填填看

1. 繩子有多長?

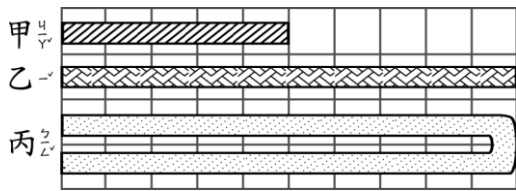


(1) 甲繩有 () 格長。

(2) 乙繩有 () 格長。

(3) 丙繩有 () 格長。

2.



- (1) 甲緞帶^ウ有^マ () 格^コ長^キ。
- (2) 乙緞帶^ウ有^マ () 格^コ長^キ。
- (3) 丙緞帶^ウ有^マ () 格^コ長^キ。

3. (1) 修正液^シ的^ウ邊^ヘ和^マ ()

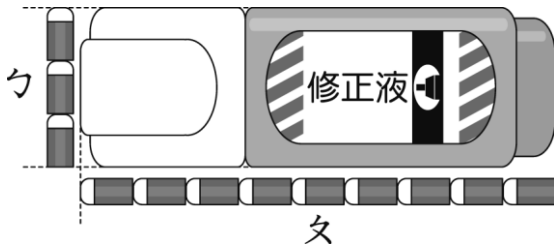
個^コ橡^カ皮^ヒ擦^キ一^ニ樣^ニ長^キ。

(2) 修正液^シ的^ウ邊^ヘ和^マ ()

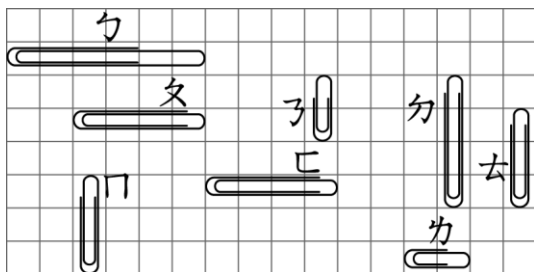
個^コ橡^カ皮^ヒ擦^キ一^ニ樣^ニ長^キ。

(3) 修正液^シ的^ウ () 邊^ヘ比^ヒ較^シ

長^キ。(填^マウ或^マウ)

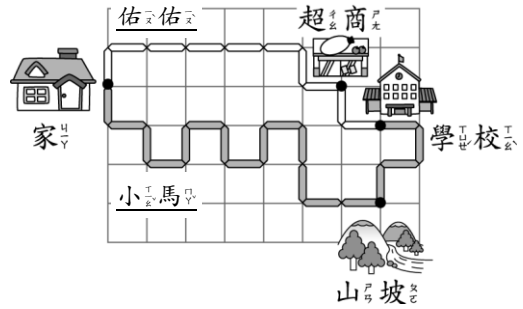


4.



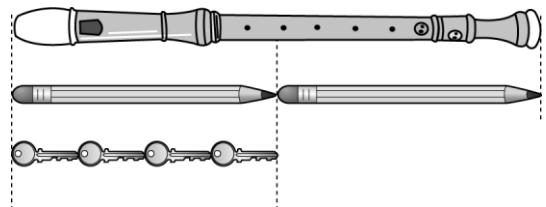
- (1) 長度^チ和^マ 4 個^コ方^カ格^コ一^ニ樣^ニ長^キ的^ウ有^マ () 個^コ。
- (2) 比^ヒ去^キ短^シ的^ウ有^マ ()、()。
- (3) 不^レ是^レ最^モ長^キ，也^レ不^レ是^レ最^モ短^シ的^ウ有^マ () 個^コ。

5.



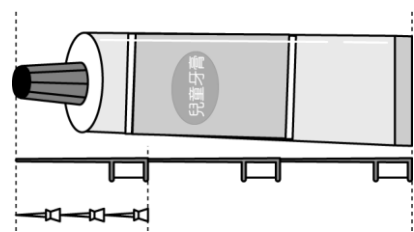
小^コ馬^ウ和^マ佑^ウ佑^ウ兩^ニ兄^ニ弟^ニ，佑^ウ佑^ウ經^テ過^ク超^{チョウ}商^{シヤウ}去^キ上^リ學^ブ，小^コ馬^ウ經^テ過^ク山^{ヤマ}坡^カ去^キ上^リ學^ブ，這^ノ天^ノ佑^ウ佑^ウ又^レ睡^レ過^ク頭^カ了^シ，到^キ超^{チョウ}商^{シヤウ}時^ノ正^シ巧^ク看^テ到^ク小^コ馬^ウ在^リ山^{ヤマ}坡^カ，如^シ果^シ兩^ニ人^ニ前^ニ進^ム相^ト同^シ的^ウ格^コ數^ズ，() 會^ハ先^ニ到^リ學^ブ校^カ。

6.



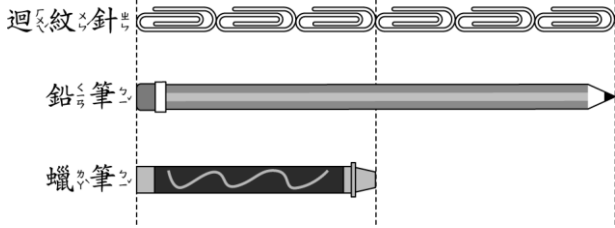
- (1) 一^ニ支^ニ直^チ笛^{フエ}和^マ () 枝^ニ鉛^チ筆^{フデ}一^ニ樣^ニ長^キ。
- (2) 一^ニ枝^ニ鉛^チ筆^{フデ}和^マ () 把^ニ鑰^{カギ}匙^ニ一^ニ樣^ニ長^キ。
- (3) 一^ニ支^ニ直^チ笛^{フエ}和^マ () 把^ニ鑰^{カギ}匙^ニ一^ニ樣^ニ長^キ。

7.



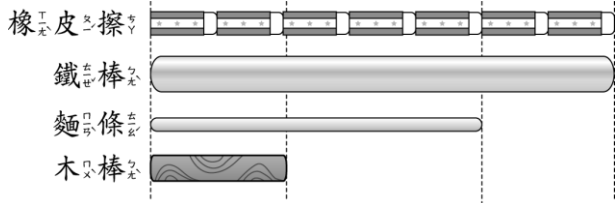
- (1) 一^ニ條^ニ牙^{シヤ}膏^{カウ}和^マ () 根^ニ牙^{シヤ}線^{シヤ}棒^{バウ}一^ニ樣^ニ長^キ。
- (2) 一^ニ根^ニ牙^{シヤ}線^{シヤ}棒^{バウ}和^マ () 個^コ大^{オホ}頭^カ針^チ一^ニ樣^ニ長^キ。
- (3) 一^ニ條^ニ牙^{シヤ}膏^{カウ}和^マ () 個^コ大^{オホ}頭^カ針^チ一^ニ樣^ニ長^キ。

8.



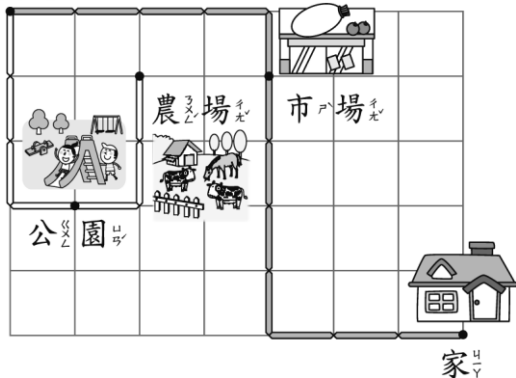
- (1) 鉛筆的長度和()個迴紋針一樣長。
- (2) 蠟筆的長度和()個迴紋針一樣長。
- (3) 小明用掉鉛筆3個迴紋針的長度，剩下的鉛筆和()個迴紋針一樣長。

9.



- (1) 鐵棒和木棒中，比麵條短的是()。
- (2) 比木棒長又比鐵棒短的是()。

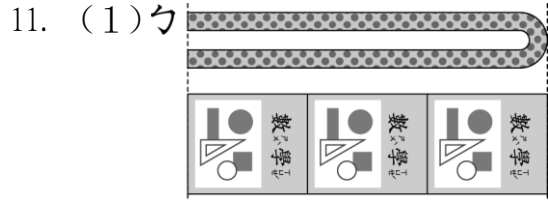
10.



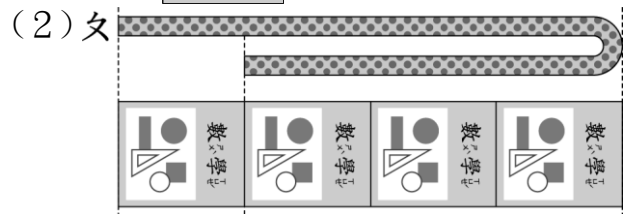
- (1) 何老師下課後，經過市場回家，何老師從學校到市場，再從市場回到家，要走

()格。

- (2) 小穎放學後去公園打籃球，之後被楊叔叔叫去農場幫忙拔雜草，從學校到公園再到農場，小穎走了()格。

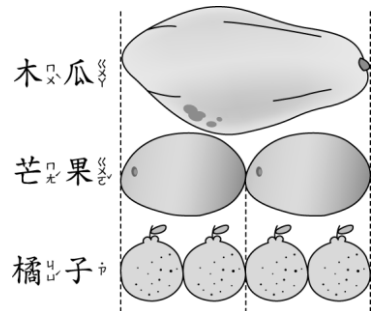


勾繩子的長度()本()一樣長。



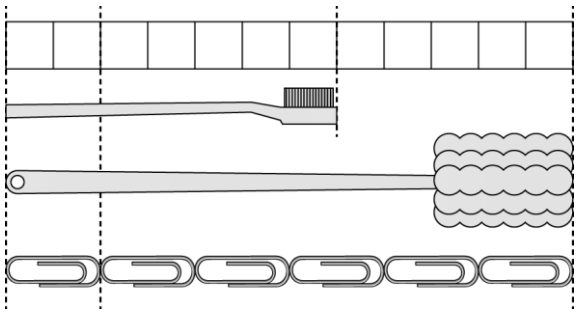
(填長或短)

12.



- (1) 木瓜和2個橘子合起來，和()個芒果一樣長。
- (2) 2個芒果和4個橘子合起來和()個木瓜一樣長。

13.



(1) 牙刷刷和 () 個 一樣長。

(2) 沐浴刷和 () 個 一樣長。

(3) 12 個 和 () 根迴紋針一樣長。

(4) 牙刷比沐浴刷少 () 個 長。

七、做做看

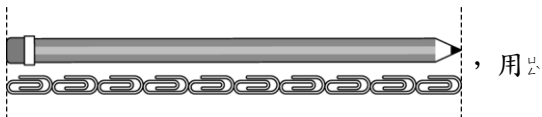
1. 一個 ● 代表一步，媽媽要到超市買菜，走哪一條路最長最短，請打√，最長的打×。



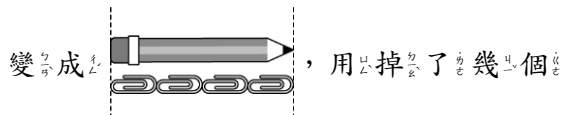
1 () 2 () 3 ()

八、寫出算式做做看

1. 鉛筆原來長度



了——段時間後，鉛筆的長度

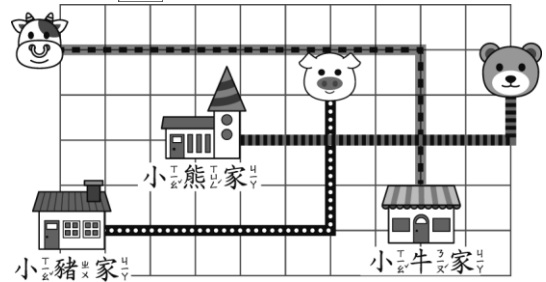


迴紋針的長度？

算式：

() 個

2. 每個 都一樣大。



(1) 把回家路程最長的小動物圈起來。

(, ,)

(2) 回家路程和 回家的路程合起來和幾格一樣長？

算式：

() 格